

6 高等学校 工業科 (機械) 問題用紙

(4枚のうち1)

受験番号		氏名	
------	--	----	--

(答えは、全て解答用紙に記入すること。)

1 あとの1～13に答えなさい。

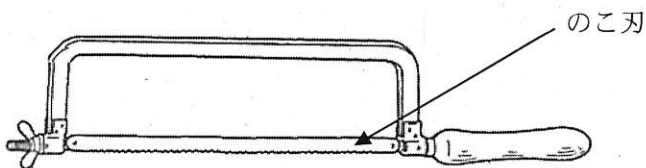
- 1 環境と経済が両立した循環型社会を形成していくための3つの取組の頭文字をとったものを3Rといいます。3つの取組の名称は何ですか。それぞれカタカナで書きなさい。
- 2 次の10進数をBCDコードで表すとどのようなようになりますか。書きなさい。

$$(3.85)_{10} = (\quad)_{BCD}$$

3 問題に誤りがあったため、掲載いたしません。
なお、全ての受験者に対し、正答として扱うこととします。

4 知的創造サイクルとは、どのようなサイクルのことですか。簡潔に書きなさい。

5 次の図は、弓のこを模式的に示したものです。図に示すのこ刃を取り換える際の注意点は何か。簡潔に2つ書きなさい。ただし、のこ刃を取り換える際、安全面には十分に配慮していることとします。



6 次の図は、ある建築物の1質点系モデルのモデル化を示したものです。図中の1質点系モデルにおいて、質量が 6.3×10^4 kg、剛性が 7.0×10^8 N/m のときの固有周期はいくらですか。求めなさい。その際、求め方も書きなさい。ただし、 π を 3.14 とします。

著作権保護の観点により、掲載いたしません。

(4枚のうち2)

受験番号		氏名	
------	--	----	--

(答えは、全て解答用紙に記入すること。)

7 次の図は、C言語を用いて作成されたプログラムを示したものです。このプログラムを実行したとき、どのような出力結果になりますか。表中の ①～③ に当てはまる値を書きなさい。

```
#include<stdio.h>
int main(void)
{
    int i, j, k;

    j = 2;
    k = 3;
    for(i = 1; i<4; i = i+1){
        j = k + (i*j-2);
        printf("i = %d j = %d\n", i, j);
    }

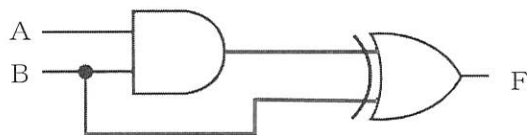
    return 0;
}
```

表

出力回数	出力結果
1回目	i = 1 j = ①
2回目	i = 2 j = ②
3回目	i = 3 j = ③

8 情報セキュリティの3要素は何ですか。全て書きなさい。

9 次の図は、ある論理回路を示したものです。この論理回路について、真理値表の ①～④ に当てはまる値を書きなさい。



真理値表

入力		出力
A	B	F
0	0	①
0	1	②
1	0	③
1	1	④

10 次の(1)～(5)の文は、何について説明したものですか。下の(ア)～(オ)の中からそれぞれ選び、記号を書きなさい。

- (1) さまざまな機器をインターネットに接続し、遠隔操作やデータ通信などを行うこと。
- (2) インターネットに接続されたコンピュータから、ソフトウェアの提供サービスやデータ保管サービスなどを受ける使用形態のこと。
- (3) 信号線を用いない情報伝送方式として、無線通信を使い近距離の情報機器間でデータをやりとりすること。
- (4) 無線LAN規格の一つであるIEEE 802.11の国際標準の通信規格に準拠し、相互接続性が確認された製品につけられる商標のこと。
- (5) 通信プロトコルなどの接続方式がまったく異なるネットワークを接続するための接続装置のこと。

(ア) Bluetooth (イ) IoT (ウ) Wi-Fi (エ) クラウドコンピューティング (オ) ゲートウェイ

11 予期せぬ停電や落雷によって、コンピュータネットワークが故障することがあります。予期せぬ停電や落雷からコンピュータネットワークを守るための安全対策は何ですか。使用する機器名を挙げてそれぞれ簡潔に書きなさい。

6 高等学校 工業科（機械） 問題用紙

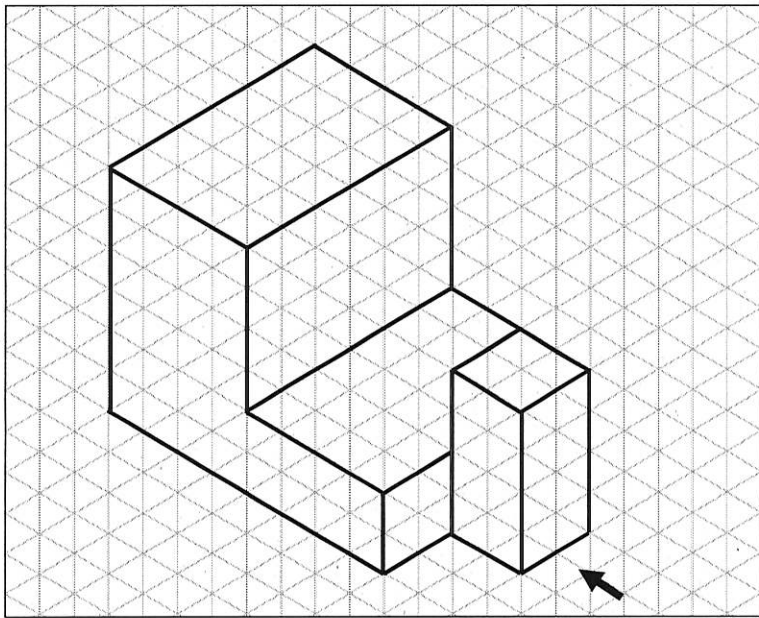
（4枚のうち3）

受験番号		氏名	
------	--	----	--

（答えは、全て解答用紙に記入すること。）

12 コンピュータを使って文集を作ることとします。一人につき、400字詰め原稿用紙で最大3枚分の作文を1,500人分集めたとき、文字のデータ量は、最大いくらになりますか。書きなさい。ただし、1文字を表すのに必要なデータ量は2 Bとし、原稿用紙の空白や記号にも2 Bの文字コードが割り当てられていることとします。

13 次の等角図に示された物体を第三角法でかきなさい。その際、隠れ線もかきなさい。ただし、この物体を矢印に示す右側面方向から見たとき、この物体は左右対称の形状であることとします。



2 次の図は、ある生徒が粘土を使用して製作した複雑な形状の置物を示したものです。地域の方から、この置物を30個製作してほしいと依頼があり、次に示す3つのデジタルファブリケーションの技術を活用して製作することとします。それぞれの技術の特長を踏まえた製作手順を簡潔に書きなさい。また、3Dプリンタで造形する際、安全面で注意する点は何ですか。簡潔に書きなさい。なお、使用する3Dプリンタは材料押出型の箱型のものを用いることとします。

著作権保護の観点により、掲載いたしません。

3DCAD 3Dプリンタ 3Dスキャナ

3 平成30年3月告示の高等学校学習指導要領 工業 について、次の1・2に答えなさい。

1 次の文章は、工業 目標 を示したものです。文章中の（ア）～（ウ）に当てはまる言葉を、それぞれ書きなさい。

工業の見方・考え方を働かせ、実践的・体験的な学習活動を行うことなどを通して、ものづくりを通じ、地域や社会の健全で（ア）を担う職業人として必要な資質・能力を次のとおり育成することを目指す。

- (1) 工業の各分野について体系的・系統的に理解するとともに、関連する技術を身に付けるようにする。
- (2) 工業に関する課題を発見し、職業人に求められる倫理観を踏まえ（イ）に解決する力を養う。
- (3) 職業人として必要な豊かな人間性を育み、よりよい（ウ）を目指して自ら学び、工業の発展に主体的かつ協働的に取り組む態度を養う。

2 科目「課題研究」 内容の取扱い (1) ア には、内容を取り扱う際、指導計画の作成に当たって、配慮する事項が示されています。どのようなことが示されていますか。簡潔に書きなさい。

6 高等学校 工業科 (機械) 問題用紙

(4枚のうち4)

受験番号		氏名	
------	--	----	--

(答えは、全て解答用紙に記入すること。)

4 次の1～4に答えなさい。

- 1 次の図は、各材料の引張試験結果から得られる応力-ひずみ線図です。図中の①～④に当てはまる材料は何ですか。下の(ア)～(エ)の中からそれぞれ選び、記号を書きなさい。

著作権保護の観点により、掲載いたしません。

(ア) 鋳鉄 (イ) 黄銅 (ウ) 軟質アルミニウム (エ) 軟鋼

- 2 水平面上に置かれた物体に働く重力が60 N 加わっています。この物体を動かすために、水平方向に18 N の力を要したとき、静摩擦係数はいくらですか。求めなさい。その際、求め方も書きなさい。
- 3 自動車用内燃機関には、ガソリン機関やディーゼル機関があります。この2つの内燃機関は、燃料をどのように燃焼させますか。使用燃料の名称とともにそれぞれ簡潔に書きなさい。
- 4 内燃機関の出力軸の回転速度が 3500 min^{-1} 、変速比が1.40、終減速比が3.00としたとき、タイヤの回転速度 $[\text{min}^{-1}]$ はいくらですか。求めなさい。ただし、答えは小数第3位を四捨五入した値を書きなさい。その際、求め方も書きなさい。

5 科目「実習」において、ガス溶接作業について指導することとします。次の図は、アセチレンガスを用いて2枚の鉄板(SS400)を溶接した正常なビードの状態を模式的に示したものです。下の1・2に答えなさい。

著作権保護の観点により、掲載いたしません。

- 1 ガス溶接作業を行う際、鉄板に対して溶接棒とトーチの適切な傾きはどのようになりますか。溶接棒を \blacksquare 、トーチを \blacksquare でかきなさい。また、鉄板に対して溶接棒とトーチの適切な傾きの角度はいくらですか。それぞれかきなさい。
- 2 ある生徒が、図のような正常なビードにならなかったと相談してきました。この生徒にどのようなことを指導しますか。溶接炎の調整を踏まえて簡潔に書きなさい。ただし、使用するトーチはB形トーチに適切な火口を取り付けたものとし、2枚の鉄板のルート間隔、酸素圧力及びアセチレン圧力を正しく調整した上で、正しく仮付けをしたものとし、

6

高等学校 工業科 (機械) 解答用紙

(4枚のうち1)

受験番号		氏名	
------	--	----	--

問題番号		解答欄		
1	1			
	2	() BCD		
	3			
	4			
	5			
	7	①		
		②		
		③		

6

高等学校 工業科 (機械) 解答用紙

(4枚のうち2)

受験番号		氏 名	
------	--	-----	--


問題番号		解答欄	
1	8		
	9	①	
		②	
		③	
		④	
	10	(1)	
		(2)	
		(3)	
		(4)	
		(5)	
	11	停電	
		落雷	
	12		

6

高等学校 工業科 (機械) 解答用紙

(4枚のうち3)

受験番号		氏名	
------	--	----	--

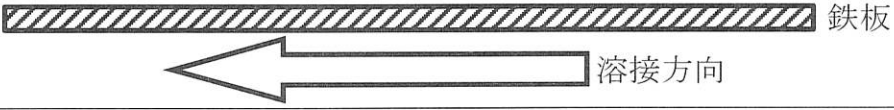
問題番号		解答欄	
1	13		
2	1	注意する点	
		(ア)	
3	2	(イ)	
		(ウ)	

6

高等学校 工業科 (機械) 解答用紙

(4枚のうち4)

受験番号		氏 名	
------	--	-----	--

問題番号		解答欄	
4	1	①	
		②	
		③	
		④	
	2		
3	ガソリン機関		
	ディーゼル機関		
4			
5	1		
	2		